

«ЗАДАНИЯ»  
ВСЕРОССИЙСКАЯ ОЛИМПИАДА ШКОЛЬНИКОВ  
ПО ТЕХНОЛОГИИ 2019–2020 уч. год  
ШКОЛЬНЫЙ ЭТАП

Номинация «Культура дома и декоративно-прикладное творчество»  
Теоретический тур  
6 класс

Максимальное количество набранных баллов – 60  
Максимальное время выполнения заданий: – 90 мин.

0 1. Вставьте в текст пропущенное слово (1 балл).

Почистите свои белоснежные зубы определённой пастой, и щётка минералов, состоящие из нескольких молекул на основе гидроксиапатитов кальция, заполняют микротрещины в эмали и сохраняют зубы от кариозных полостей.



Ответ: щётка.

1 2. а) Отгадайте загадку (1 балл).

Рыженькая, как лисица,  
Но сидит она в темнице,  
Хвост над грядкой держит ловко  
Называется ... морковко

Что нужно сделать с отгадкой для приготовления винегрета?

Полить, почистить нарезать.

1 б) Назовите ещё три блюда, для приготовления которых используется этот продукт (1 балл).

Шницель, салат из нарезанной моркови, овощной суп

- 0 3. Как называется вид рукоделия, для которого используются материалы и оборудование, изображённые на рисунке (1 балл)?



Ответ:

- 1 4. Расположите буквы в правильном порядке, разгадайте зашифрованное слово, получите название старинного русского головного убора замужних женщин (1 балл).

*и й о о к п в н*

Ответ: *поповский*

- 0 5. а) Вставьте в текст стихотворения Владимира Буряка название ткани (1 балл).
















Тонкий волоконно будто создан из облака,  
Он спадает, не падая вниз.

Льётся ткань, и сияет весь облик твой,  
Тонкий волоконно невесом, как каприз...

- 0 б) Какого происхождения волокно, из которого производится эта ткань (1 балл)?

Ответ:

- 1 в) Выберите знаки ухода за одеждой из ткани, произведенной из волокна, о котором говорится в п. а) (1 балл).

A <i>✗</i>	    
Б	    
В <i>✓</i>	    

Ответ:



0 б. а) О какой профессии идёт речь в стихотворении (1 балл)?

*Курсарка* у плиты творит,  
 Как на крыльях он парит.  
 Всё бурлит вокруг него,  
 Кухня – кузница его.  
 Каждое его творенье –  
 Просто сказка, объеденье,  
 Мысли, творчества полёт.  
 Тот, кто пробовал, поймёт.

Ответ: *курсарка*

1 б) Выберите оборудование, которое использовалось представителями этой профессии в старину и которое используется сейчас (1 балл).

В старину, *а*



Сейчас *3*



1



2



3



Ответ: а, в

1 7. Назовите основные цвета, используемые при изготовлении гжельской керамики (1 балл).

Ответ: Белый, голубой и синий

0 8. Объясните, для чего нарезанные яблоки сбрызгивают лимонным соком или кладут в подсоленную воду (1 балл).

Ответ: Чтобы они наполнились полезными минералами

9. Каким швом обрабатывают нижний срез фартука из хлопчатобумажной ткани? Сделайте графическое изображение и нарисуйте схему такого шва (до 2 баллов).



0 10. Установи соответствие между условными изображениями швов и их названием. (4 балла)



Ответ запиши в виде комбинации букв и цифр без пробелов, кавычек и каких-либо знаков препинания, цифры должны идти по порядку.

Например, 1а2в3б

Ответ: б-1 а-2 в-3

5 11. Расшифруй слово. Числа означают место буквы в русском алфавите.



Запиши полученное слово в ответе без кавычек и каких-либо знаков препинания, например, пища (5 баллов)

Ответ: оркитур

0 12. Как называется способность ткани в подвешенном состоянии образовывать мягкие округлые складки? Для ответа на этот вопрос сначала составь слова. (5 баллов)

а) емостьдрапиру б) емостьсмина в) дкауса г) емостьсыпа

0 13. Существуют 2 способа настила ткани. Какие? (2 балла)

а) в сгиб б) внахлест в) в разворот г) шиворот навыворот

**14. Творческое задание (10 баллов)**

2 14.1. Составьте меню завтрака, включающее омлет (2 балл).

Омлет, севич, кофе.

1 14.2. Перечислите продукты, которые Вам потребуются для приготовления этого завтрака. (1 балл).

Омлет: <sup>масло</sup> яйца, молоко, соль, севич: хлеб, огурец, кабачок, соус. Кофе: молотое кофе зашить кипятком.


2 14.3. Перечислите оборудование, которое Вам потребуется (2 балл).


Омлет: <sup>тарелка, ложка</sup> теща, сковорода, лопатка; Севич: ножик, тарелка, чайник, кружка, ложечка.

3 14.4. Опишите технологию приготовления омлета (3 балла).

Взять ибить яйца с молоком: На разогретую сковородку налить масло. После вылить в смесь из молока и яйца, посолить. Когда омлет приготовится лопаткой подворачивать ее и положить на тарелку.

1 14.5. Предложите сервировку стола к этому завтраку (2 балл).





### 15. Творческое задание.

Максимальное количество баллов за работу – 20

Выберите фартук из предложенных по назначению:


а) для официантов; б) для домашней кухни.

Для выбранного фартука выполните следующие задания.

1. Выполните эскиз модели.
2. Перечислите материалы, которые необходимы для его изготовления.
3. Какие инструменты и оборудование потребуются для пошива фартука?
4. Предложите способы декорирования изделия.

№	а) для официантов	для домашней кухни
1		



	<p>эскиз</p>	<p>Эскиз</p>  <p style="text-align: right;">4</p>
<p>2</p>	<p>Перечислите материалы, которые необходимы для его изготовления.</p>	<p>Перечислите материалы, которые необходимы для его изготовления.</p> <p><i>Ткань, желез, кружика</i></p> <p style="text-align: right;">1</p>
<p>3</p>	<p>Какие инструменты и оборудование потребуются для пошива фартука?</p>	<p>Какие инструменты и оборудование потребуются для пошива фартука?</p> <p><i>ножницы, швейка</i></p> <p style="text-align: right;">0</p>



4	Предложите способы декорирования изделия.	Предложите способы декорирования изделия. <i>украшить фартук горошинами</i>
---	---	--

**Карта пооперационного контроля к творческой работе**

**«Моделирование фартука» максимально 20 баллов**

№	Контролируемые параметры	Баллы	Баллы по факту
1	Соответствие эскиза описанию модели	6	
2	Соответствие выбранных материалов предложенному рисунку и назначению	4	
3	Перечислено более половины инструментов и оборудования	6	
4	Необходимые элементы декора в п. 1 и п. 2, не противоречат ли они назначению	4	