

«ЗАДАНИЯ»
ВСЕРОССИЙСКАЯ ОЛИМПИАДА ШКОЛЬНИКОВ
ПО ТЕХНОЛОГИИ 2019–2020 уч. год
ШКОЛЬНЫЙ ЭТАП

Номинация «Культура дома и декоративно-прикладное творчество»
Теоретический тур
6 класс

Максимальное количество набранных баллов – 60
Максимальное время выполнения заданий: – 90 мин.

0 1. Вставьте в текст пропущенное слово (1 балл).

Почистите свои белоснежные зубы определённой пастой, и _____ минералов, состоящие из нескольких молекул на основе гидроксиапатитов кальция, заполняют микротрещины в эмали и сохраняют зубы от кариозных полостей.



Ответ:

1 2. а) Отгадайте загадку (1 балл).

Рыженькая, как лисица,
Но сидит она в темнице,
Хвост над грядкой держит ловко
Называется морковкой

Что нужно сделать с отгадкой для приготовления винегрета?

1. Помыть, ~~почистить~~ сформировать 2) почистить 3) покрышить
в салат.

1 б) Назовите ещё три блюда, для приготовления которых используется этот продукт (1 балл).

Суп, морковный, морковный пирог,
тушёное мясо.

- 0 3. Как называется вид рукоделия, для которого используются материалы и оборудование, изображённые на рисунке (1 балл)?



Ответ:

- 0 4. Расположите буквы в правильном порядке, разгадайте зашифрованное слово, получите название старинного русского головного убора замужних женщин (1 балл).

и й о о к п в н

Ответ:




- 0 5. а) Вставьте в текст стихотворения Владимира Буряка название ткани (1 балл).

Тонкий лен будто создан из облака,
Он спадает, не падая вниз.
Льётся ткань, и сияет весь облик твой,
Тонкий лен невесом, как каприз...

- 0 б) Какого происхождения волокно, из которого производится эта ткань (1 балл)?

Ответ: *растительного*

- 0 в) Выберите знаки ухода за одеждой из ткани, произведенной из волокна, о котором говорится в п. а) (1 балл).

А	
Б	
В	

Ответ: В

1 б. а) О какой профессии идёт речь в стихотворении (1 балл)?

~~П~~ у плиты творит,
 Как на крыльях он парит.
 Всё бурлит вокруг него,
 Кухня – кузница его.
 Каждое его творенье –
 Просто сказка, объеденье,
 Мысли, творчества полёт.
 Тот, кто пробовал, поймёт.

Ответ: Повар.

0 б) Выберите оборудование, которое использовалось представителями этой профессии в старину и которое используется сейчас (1 балл).
 В старину



Сейчас

1



2



3



Ответ: 2-В, 3-А, 1-В.

7. Назовите основные цвета, используемые при изготовлении гжельской керамики (1 балл).


Тёмный, красный, жёлтый.

Ответ:

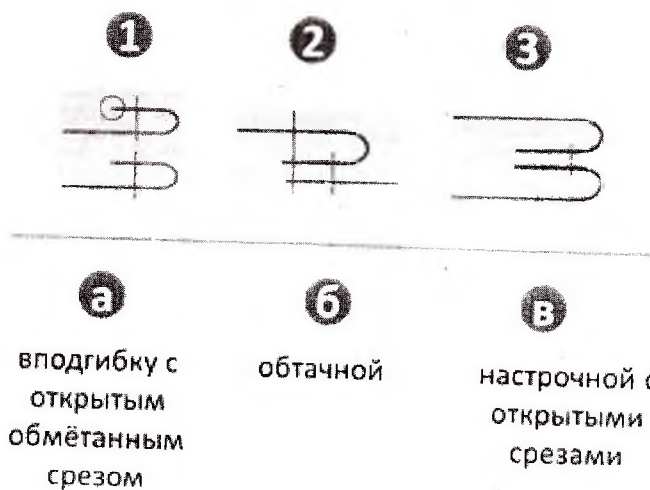
8. Объясните, для чего нарезанные яблоки сбрызгивают лимонным соком или кладут в подсоленную воду (1 балл).

Ответ: Чтобы предотвратить потемнение и яблоко шипит.

9. Каким швом обрабатывают нижний срез фартука из хлопчатобумажной ткани? Сделайте графическое изображение и нарисуйте схему такого шва (до 2 баллов).



0 10. Установи соответствие между условными изображениями швов и их названием. (4 балла)



Ответ запиши в виде комбинации букв и цифр без пробелов, кавычек и каких-либо знаков препинания, цифры должны идти по порядку. Например, 1а2в3б

Ответ: 1б2б3а.

5 11. Расшифруй слово. Числа означают место буквы в русском алфавите.



Запиши полученное слово в ответе без кавычек и каких-либо знаков препинания, например, пища (5 баллов)

Ответ: Фурнитур

0 12. Как называется способность ткани в подвешенном состоянии образовывать мягкие округлые складки? Для ответа на этот вопрос сначала составь слова. (5 баллов)

а) емостьдрапиру б) емостьсмина в) дкауса г) емостьосыпа

1 13. Существуют 2 способа настила ткани. Какие? (2 балла)

а) в сгиб б) внахлёт в) в разворот г) шиворот навыворот

14. Творческое задание (10 баллов)

2 14.1. Составьте меню завтрака, включающее омлет (2 балл).

1. Чай. 2. Сметана. 3. Омлет. 4. Пряники или что-то сладкое к чаю.

1 14.2. Перечислите продукты, которые Вам потребуются для приготовления этого завтрака. (1 балл).

1) 1. Яйца 2) Чайная ложка, кипяченая и горячая вода.
3. Соль. 3) Сгущенные пряники или что-то сладкое.
4. Масло. 4) Помидорки и огурцы порезать и положить в одну тарелку.

1 14.3. Перечислите оборудование, которое Вам потребуется (2 балл).

1. Сковорода.
2. Плита.
3. Чайник.

1 14.4. Опишите технологию приготовления омлета (3 балла).

1. Взять сковороду. 7. После приготовления положить на тарелку.
3. 2. Положить на нее масло и растопить. 8. Налить сгущенную
2. 3. Поставить сковороду на плиту и зажечь. Воду в кружку и заварить чай.
4. Когда она нагреется вбить туда яйца и залить.
5. Посолить.
6. Когда полностью приготовлено.

0 14.5. Предложите сервировку стола к этому завтраку (2 балл).

Чашка, тарелка и вилка с ложкой.

15. Творческое задание.

Максимальное количество баллов за работу – 20



Выберите фартук из предложенных по назначению:



а) для официантов; б) для домашней кухни.

Для выбранного фартука выполните следующие задания.

1. Выполните эскиз модели.
2. Перечислите материалы, которые необходимы для его изготовления.
3. Какие инструменты и оборудование потребуются для пошива фартука?
4. Предложите способы декорирования изделия.

№	а) для официантов	для домашней кухни
1		

Эскиз	Эскиз
	
<p>2. Перечислите материалы, которые необходимы для его изготовления.</p> <p>1. Нитки. 2. Ткань. 3. Швейная машина. 4. Пуговицы.</p>	<p>Перечислите материалы, которые необходимы для его изготовления.</p> <p>1. Ткань. 2. Пуговицы. 3. Нитки. 4. Ленточки.</p>
<p>3. Какие инструменты и оборудование потребуются для пошива фартука?</p> <p>Игла, швейная машина, ножницы, булавка.</p>	<p>Какие инструменты и оборудование потребуются для пошива фартука?</p> <p>Игла, швейная машина, ножницы, булавка.</p>

4	Предложите способы декорирования изделия. 	Предложите способы декорирования изделия. 
---	--	---

Карта пооперационного контроля к творческой работе

«Моделирование фартука» максимально 20 баллов

№	Контролируемые параметры	Баллы	Баллы по факту
1	Соответствие эскиза описанию модели	6	
2	Соответствие выбранных материалов предложенному рисунку и назначению	4	
3	Перечислено более половины инструментов и оборудования	6	
4	Необходимые элементы декора в п. 1 и п. 2, не противоречат ли они назначению	4	