

Саммер  
Анна

23

«ЗАДАНИЯ»  
ВСЕРОССИЙСКАЯ ОЛИМПИАДА ШКОЛЬНИКОВ  
ПО ТЕХНОЛОГИИ 2019–2020 уч. год  
ШКОЛЬНЫЙ ЭТАП

Номинация «Культура дома и декоративно-прикладное творчество»  
Теоретический тур  
6 класс

Максимальное количество набранных баллов – 60

Максимальное время выполнения заданий: – 90 мин.

0 1. Вставьте в текст пропущенное слово (1 балл).

Почистите свои белоснежные зубы определённой пастой, и щётками минералов, состоящие из нескольких молекул на основе гидроксиапатитов кальция, заполнят микротрещины в эмали и сохранят зубы от кариозных полостей.



Ответ: щётки

0 2. а) Отгадайте загадку (1 балл).

Рыженькая, как лисица,  
Но сидит она в темнице,  
Хвост над грядкой держит ловко  
Называется ... морковь

Что нужно сделать с отгадкой для приготовления винегрета?

1 б) Назовите ещё три блюда, для приготовления которых используется этот продукт (1 балл). суп, салат, сок

- 0 3. Как называется вид рукоделия, для которого используются материалы и оборудование, изображённые на рисунке (1 балл)?



Ответ: *швейное дело*

- 0 4. Расположите буквы в правильном порядке, разгадайте зашифрованное слово, получите название старинного русского головного убора замужних женщин (1 балл).

*и й о о к п в н*

Ответ:




- 0 5. а) Вставьте в текст стихотворения Владимира Буряка название ткани (1 балл).

Тонкий *сити* будто создан из облака,  
Он спадает, не падая вниз.  
Льётся ткань, и сияет весь облик твой,  
Тонкий *сити* невесом, как каприз...

- 0 б) Какого происхождения волокно, из которого производится эта ткань (1 балл)?

Ответ: *хлопок*

- 1 в) Выберите знаки ухода за одеждой из ткани, произведенной из волокна, о котором говорится в п. а) (1 балл). *стирка*

А	
Б	
В	


Ответ: В

1 б. а) О какой профессии идёт речь в стихотворении (1 балл)?

Повар у плиты творит,  
 Как на крыльях он парит.  
 Всё бурлит вокруг него,  
 Кухня – кузница его.  
 Каждое его творенье –  
 Просто сказка, объеденье,  
 Мысли, творчества полёт.  
 Тот, кто пробовал, поймёт.

Ответ: Повар

1 б) Выберите оборудование, которое использовалось представителями этой профессии в старину и которое используется сейчас (1 балл).  
 В старину




Сейчас А

1

2

3



Ответ: 3


- 1 7. Назовите основные цвета, используемые при изготовлении гжельской керамики (1 балл).

Ответ: синий - белый

- 1 8. Объясните, для чего нарезанные яблоки сбрызгивают лимонным соком или кладут в подсоленную воду (1 балл).

Ответ: ~~Ж~~ чтобы у них не изменилась структура

9. Каким швом обрабатывают нижний срез фартука из хлопчато-бумажной ткани? Сделайте графическое изображение и нарисуйте схему такого шва (до 2 баллов).



0 10. Установи соответствие между условными изображениями швов и их названием. (4 балла)



Ответ запиши в виде комбинации букв и цифр без пробелов, кавычек и каких-либо знаков препинания, цифры должны идти по порядку.  
Например, 1а2в3б

Ответ: 3б

11. Расшифруй слово. Числа означают место буквы в русском алфавите.



Запиши полученное слово в ответе без кавычек и каких-либо знаков препинания, например, пища (5 баллов)

Ответ: Железежжес

12. Как называется способность ткани в подвешенном состоянии образовывать мягкие округлые складки? Для ответа на этот вопрос сначала составь слова. (5 баллов)

а) емостьдрапиру б) емостьмина в) дкауса г) емостьсыпа

2 13. Существуют 2 способа настила ткани. Какие? (2 балла)

а) в сгиб б) внахлёт в) в разворот г) шиворот навыворот

**14. Творческое задание (10 баллов)**

1 14.1. Составьте меню завтрака, включающее омлет (2 балл).

кофе, омлет, каша,

0 14.2. Перечислите продукты, которые Вам потребуются для приготовления этого завтрака. (1 балл).

кофе - яйца - молоко - каша - сливки

1 14.3. Перечислите оборудование, которое Вам потребуется (2 балл).

сковорода - кастрюля - плита

1 14.4. Опишите технологию приготовления омлета (3 балла).

разбить яйца - добавить молоко и взболтать  
и залить в сковороду и жарить

0 14.5. Предложите сервировку стола к этому завтраку (2 балл).

все выложить на тарелки

### 15. Творческое задание.

Максимальное количество баллов за работу – 20


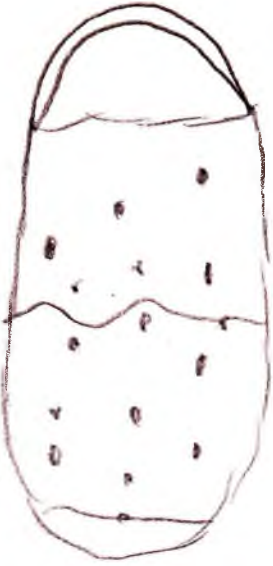
Выберите фартук из предложенных по назначению:

а) для официантов;  для домашней кухни.

**Для выбранного фартука выполните следующие задания.**

1. Выполните эскиз модели.
2. Перечислите материалы, которые необходимы для его изготовления.
3. Какие инструменты и оборудование потребуются для пошива фартука?
4. Предложите способы декорирования изделия.

№	а) для официантов	для домашней кухни
1		

	<p>эскиз</p> 	<p>Эскиз</p> 	
2	<p>Перечислите материалы, которые необходимы для его изготовления.</p> <p><i>ткань, нитки</i></p>	<p>Перечислите материалы, которые необходимы для его изготовления.</p> <p><i>ткань, нитки</i></p>	4
3	<p>Какие инструменты и оборудование потребуются для пошива фартука?</p> <p><i>иголки, ножницы швейная машина</i></p>	<p>Какие инструменты и оборудование потребуются для пошива фартука?</p> <p><i>иголки, ножницы швейная машина</i></p>	4



4	Предложите способы декорирования изделия.  <i>лазерная - эмаль - каучук</i>	Предложите способы декорирования изделия.  <i>кружки и мыльница</i>
---	---	---

**Карта пооперационного контроля к творческой работе**

**«Моделирование фартука» максимально 20 баллов**

№	Контролируемые параметры	Баллы	Баллы по факту
1	Соответствие эскиза описанию модели	6	
2	Соответствие выбранных материалов предложенному рисунку и назначению	4	
3	Перечислено более половины инструментов и оборудования	6	
4	Необходимые элементы декора в п. 1 и п. 2, не противоречат ли они назначению	4	