

«ЗАДАНИЯ»
ВСЕРОССИЙСКАЯ ОЛИМПИАДА ШКОЛЬНИКОВ
ПО ТЕХНОЛОГИИ 2019–2020 уч. год
ШКОЛЬНЫЙ ЭТАП

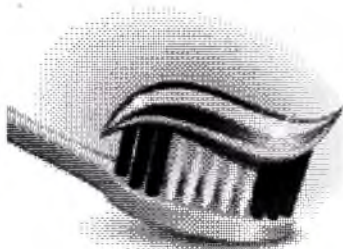
Номинация «Культура дома и декоративно-прикладное творчество»
Теоретический тур
6 класс

Максимальное количество набранных баллов – 60

Максимальное время выполнения заданий: – 90 мин.

0 1. Вставьте в текст пропущенное слово (1 балл).

Почистите свои белоснежные зубы определённой пастой, и _____ минералов, состоящие из нескольких молекул на основе гидроксиапатитов кальция, заполняют микротрещины в эмали и сохраняют зубы от кариозных полостей.



Ответ: *Частицы*

1 2. а) Отгадайте загадку (1 балл).

Рыженькая, как лисица,
Но сидит она в темнице,
Хвост над грядкой держит ловко
Называется ...

Что нужно сделать с отгадкой для приготовления винегрета?

Морковка. Сварить и нарезать.

1 б) Назовите ещё три блюда, для приготовления которых используется этот продукт (1 балл).

Суп, корейская морковка и салаты.

- 0 3. Как называется вид рукоделия, для которого используются материалы и оборудование, изображённые на рисунке (1 балл)?



Ответ: *Войлочная*

- 0 4. Расположите буквы в правильном порядке, разгадайте зашифрованное слово, получите название старинного русского головного убора замужних женщин (1 балл).

и й о о к п в н

Ответ: *По коповиш*

- 1 5. а) Вставьте в текст стихотворения Владимира Буряка название ткани (1 балл).

Тонкий шелк будто создан из облака,

Он спадает, не падая вниз.

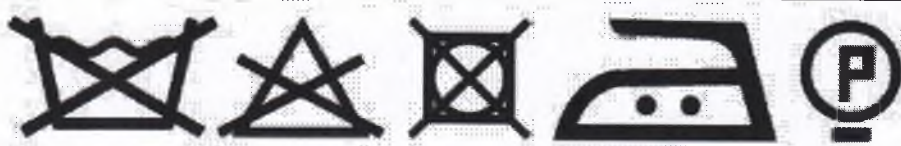


Льётся ткань, и сияет весь облик твой,

Тонкий шелк невесом, как каприз...

- 1 б) Какого происхождения волокно, из которого производится эта ткань (1 балл)?

Ответ: *Он из растения.*

- 1 в) Выберите знаки ухода за одеждой из ткани, произведенной из волокна, о котором говорится в п. а) (1 балл).

А	
Б	
В	



Ответ: *Б*

1 б. а) О какой профессии идёт речь в стихотворении (1 балл)?

_____ у плиты творит,
 Как на крыльях он парит.
 Всё бурлит вокруг него,
 Кухня – кузница его.
 Каждое его творенье –
 Просто сказка, объеденье,
 Мысли, творчества полёт.
 Тот, кто пробовал, поймёт.

Ответ: *Повар*

1 б) Выберите оборудование, которое использовалось представителями этой профессии в старину и которое используется сейчас (1 балл).
 В старину



Сейчас

1

2

3



Ответ: 3

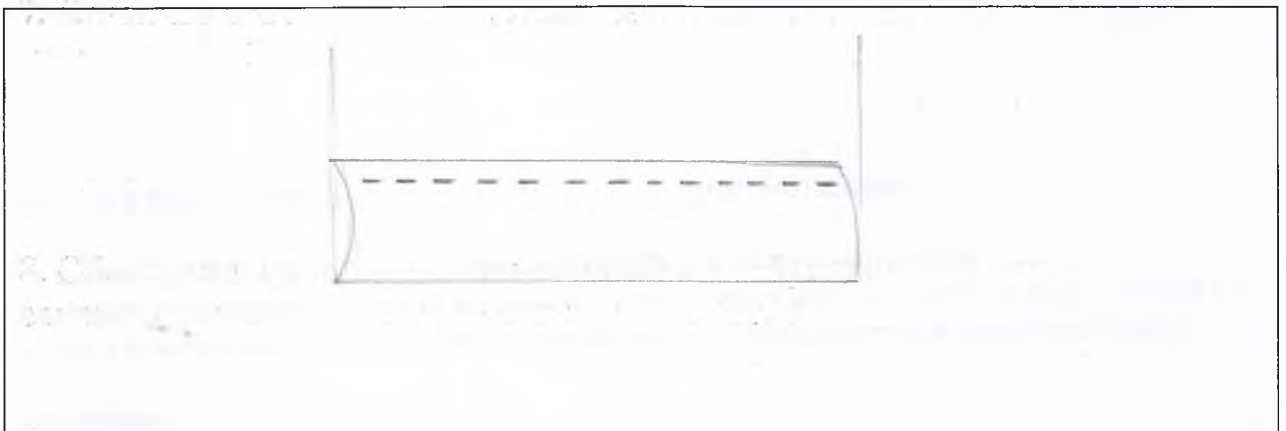
- 1 7. Назовите основные цвета, используемые при изготовлении гжельской керамики (1 балл).

Ответ: ~~Синий~~, белый, голубой.

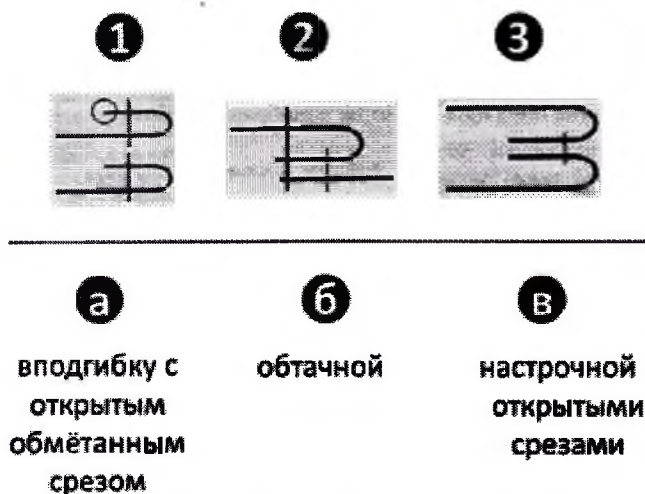
- 0 8. Объясните, для чего нарезанные яблоки сбрызгивают лимонным соком или кладут в подсоленную воду (1 балл).

Ответ: Чтобы не испортились. Когда яблоки как-бы начинают жить

- 1 9. Каким швом обрабатывают нижний срез фартука из хлопчато-бумажной ткани? Сделайте графическое изображение и нарисуйте схему такого шва (до 2 баллов).



4 10. Установи соответствие между условными изображениями швов и их названием. (4 балла)



Ответ запиши в виде комбинации букв и цифр без пробелов, кавычек и каких-либо знаков препинания, цифры должны идти по порядку.
Например, 1а2в3б

Ответ: 1-а 2-б 3-б

5 11. Расшифруй слово. Числа означают место буквы в русском алфавите.



Запиши полученное слово в ответе без кавычек и каких-либо знаков препинания, например, пища(5баллов)

Ответ: Зурнитур

5 12. Как называется способность ткани в подвешенном состоянии образовывать мягкие округлые складки? Для ответа на этот вопрос сначала составь слова.(5баллов)

- | | | | |
|--|-------------------------------------|----------------------------|------------------------------------|
| а) емостьдрапиру
<i>Драпирность</i> | б) емостьмина
<i>сминаемость</i> | в) дкауса
<i>усадка</i> | г) емостьсыпа
<i>сыпчатость</i> |
|--|-------------------------------------|----------------------------|------------------------------------|

2 13. Существуют 2 способа настила ткани. Какие?(2балла)

- | | | | |
|-----------|------------|---------------|----------------------|
| а) в сгиб | б) внахлёт | в) в разворот | г) шиворот навыворот |
|-----------|------------|---------------|----------------------|

14. Творческое задание (10 баллов)

2 14.1. Составьте меню завтрака, включающее омлет (2 балл).

1. Омлет
2. Блинчики со сгущёнкой.
3. Чай или какао

0 14.2. Перечислите продукты, которые Вам потребуются для приготовления этого завтрака. (1 балл).

1. Яйца
2. Молоко
3. Соль
4. Сахар
5. Мука
6. Чайная заварка или какао-порошок


2 14.3. Перечислите оборудование, которое Вам потребуется (2 балл).

1. Сковорода
2. Миска для теста
3. Ложка
4. Чашка
5. Сито
6. чайная ложка
7. Миксер
8. Столовая ложка.


1 14.4. Опишите технологию приготовления омлета (3 балла).

1. Достать продукты
2. В чашу бросить 2 яйца (разбившие)
3. Налить в чашу молоко
4. Добавить соль
5. Перемешать
6. Отправить в сковороду.

1 14.5. Предложите сервировку стола к этому завтраку (2 балл).



В
У
Х
Г
Н
Ч
Г
В
Н
О
С
Д
Э
Ц
О
В
И
Н
Э
Г
Э
Я
С
И
ОИ
И
П
В
М
Д
О
Ф
Н
И
Ч
Л
В
Ш
В
Г
Л
Э
В
Д
Э
Н
.
|
|
|
2



15. Творческое задание.

Максимальное количество баллов за работу – 20

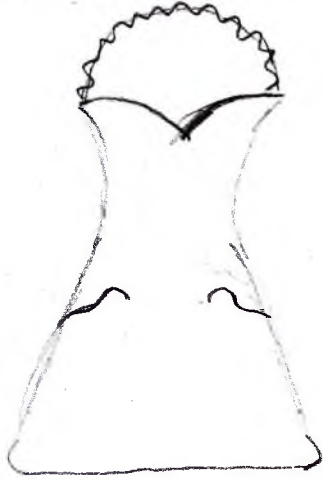
Выберите фартук из предложенных по назначению:

а) для официантов; б) для домашней кухни.

Для выбранного фартука выполните следующие задания.

1. Выполните эскиз модели.
2. Перечислите материалы, которые необходимы для его изготовления.
3. Какие инструменты и оборудование потребуются для пошива фартука?
4. Предложите способы декорирования изделия.

№	а) для официантов	для домашней кухни
1		

	<p>эскиз</p>	<p>Эскиз</p> 
<p>2</p>	<p>Перечислите материалы, которые необходимы для его изготовления.</p>	<p>Перечислите материалы, которые необходимы для его изготовления.</p> <p>Литки и ткань</p>
<p>3</p>	<p>Какие инструменты и оборудование потребуются для пошива фартука?</p>	<p>Какие инструменты и оборудование потребуются для пошива фартука?</p> <p>Швейная машина. Утюг. Гладильная доска. Иголка, Ножницы. Булавки.</p>

4	Предложите способы декорирования изделия.	Предложите способы декорирования изделия. Специальные наклейки. Вышивка. Красивые ленточки для обвязывания. Бантики
---	---	---

Карта пооперационного контроля к творческой работе

«Моделирование фартука» максимально 20 баллов

№	Контролируемые параметры	Баллы	Баллы по факту
1	Соответствие эскиза описанию модели	6	6
2	Соответствие выбранных материалов предложенному рисунку и назначению	4	3
3	Перечислено более половины инструментов и оборудования	6	6
4	Необходимые элементы декора в п. 1 и п. 2, не противоречат ли они назначению	4	3

496