

Терещенко Софии.
6А⁴ класс.


«ЗАДАНИЯ»
ВСЕРОССИЙСКАЯ ОЛИМПИАДА ШКОЛЬНИКОВ
ПО ТЕХНОЛОГИИ 2019–2020 уч. год
ШКОЛЬНЫЙ ЭТАП

Номинация «Культура дома и декоративно-прикладное творчество»
Теоретический тур
6 класс

Максимальное количество набранных баллов – 60
Максимальное время выполнения заданий: – 90 мин.

0 1. Вставьте в текст пропущенное слово (1 балл).

Почистите свои белоснежные зубы определённой пастой, и частицей минералов, состоящие из нескольких молекул на основе гидроксиапатитов кальция, заполнят микротрещины в эмали и сохранят зубы от кариозных полостей.



Ответ:

1 2. а) Отгадайте загадку (1 балл).

Рыженькая, как лисица,
Но сидит она в темнице,
Хвост над грядкой держит ловко
Называется морковка.

Что нужно сделать с отгадкой для приготовления винегрета?

Почистить, отварить, нарезать.

1 б) Назовите ещё три блюда, для приготовления которых используется этот продукт (1 балл).

Салатка под шубой, корейская морковко-,, Цезарь“.

- 0 3. Как называется вид рукоделия, для которого используются материалы и оборудование, изображённые на рисунке (1 балл)?



Ответ: *Глитки, вышивка.*

- 0 4. Расположите буквы в правильном порядке, разгадайте зашифрованное слово, получите название старинного русского головного убора замужних женщин (1 балл).

и й о о к п в н

Ответ: *Коповейки.*




- 0 5. а) Вставьте в текст стихотворения Владимира Буряка название ткани (1 балл).

Тонкий *шёлк* будто создан из облака,
Он спадает, не падая вниз.
Льётся ткань, и сияет весь облик твой,
Тонкий *шёлк* невесом, как каприз...

- 0 б) Какого происхождения волокно, из которого производится эта ткань (1 балл)?

Ответ:

- 1 в) Выберите знаки ухода за одеждой из ткани, произведенной из волокна, о котором говорится в п. а) (1 балл).

А	
Б	
В ✓	


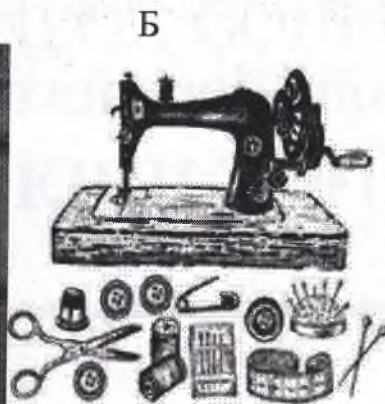
Ответ: В.

1 б. а) О какой профессии идёт речь в стихотворении (1 балл)?

Повар у плиты творит,
 Как на крыльях он парит.
 Всё бурлит вокруг него,
 Кухня – кузница его.
 Каждое его творенье –
 Просто сказка, объеденье,
 Мысли, творчества полёт.
 Тот, кто пробовал, поймёт.

Ответ: Повар.

1 б) Выберите оборудование, которое использовалось представителями этой профессии в старину и которое используется сейчас (1 балл).
 В старину



Сейчас

1

2

3



Ответ: А, В.

- 1 7. Назовите основные цвета, используемые при изготовлении гжельской керамики (1 балл).


Белый, синий, голубой.

Ответ:



- 1 8. Объясните, для чего нарезанные яблоки сбрызгивают лимонным соком или кладут в подсоленную воду (1 балл).

Ответ: Для того, чтобы они не темнели.

- 0 9. Каким швом обрабатывают нижний срез фартука из хлопчатобумажной ткани? Сделайте графическое изображение и нарисуйте схему такого шва (до 2 баллов).



0 10. Установи соответствие между условными изображениями швов и их названием. (4 балла)

1	2	3
		
<hr/>		
а	б	в
вподгибку с открытым обметанным срезом	обтачной	настрочной с открытыми срезами

Ответ запиши в виде комбинации букв и цифр без пробелов, кавычек и каких-либо знаков препинания, цифры должны идти по порядку. Например, 1а2в3б

Ответ: 1- 2- 3-

5 11. Расшифруй слово. Числа означают место буквы в русском алфавите.



Запиши полученное слово в ответе без кавычек и каких-либо знаков препинания, например, пища(5баллов)

Ответ: Фурнитура.

5 12. Как называется способность ткани в подвешенном состоянии образовывать мягкие округлые складки? Для ответа на этот вопрос сначала составь слова.(5баллов)

- а) емостьдрапиру б) емостьмина в) дкауса г) емостьсыпа
а) драпиреваемость. б) шинельность. в) усадка. г) сыпавность.

2 13. Существуют 2 способа настила ткани. Какие?(2балла)

- а) в сгиб б) внахлест **в) в разворот** г) шиворот навыворот

14. Творческое задание (10 баллов)

2 14.1. Составьте меню завтрака, включающее омлет (2 балл).

- 1.) Сок.
- 2.) Омлет.
- 3.) Яичница.
- 4.) Бутерброды.

0 14.2. Перечислите продукты, которые Вам потребуются для приготовления этого завтрака. (1 балл).

- 1.) Фрукт (для сока).
- 2.) Яйца (омлет), соль.
- 3.) Яйца (яичница), петрушка, соль, пашидеры.
- 4.) Колбаса, сыр, хлеб (бутерброды).

2 14.3. Перечислите оборудование, которое Вам потребуется (2 балл).


Нож, вилка (ложка), солонка, сковорода, соковыжималка.

0 14.4. Опишите технологию приготовления омлета (3 балла).

- 1.) Яйца разбить в ёмкость.
- 2.) Взбить их вилкой или ложкой.
- 3.) Поместить эту смесь в сковороду.
- 4.) Помешать в тарелку.

1 14.5. Предложите сервировку стола к этому завтраку (2 балл).





15. Творческое задание.

Максимальное количество баллов за работу – 20



Выберите фартук из предложенных по назначению:

а) для официантов; б) для домашней кухни.

Для выбранного фартука выполните следующие задания.

1. Выполните эскиз модели.
2. Перечислите материалы, которые необходимы для его изготовления.
3. Какие инструменты и оборудование потребуются для пошива фартука?
4. Предложите способы декорирования изделия.

№	а) для официантов	для домашней кухни
а)		б) 

	<p>эскиз</p> 	<p>Эскиз</p> 
2	<p>Перечислите материалы, которые необходимы для его изготовления.</p> <p><i>Литки, ткань.</i></p>	<p>Перечислите материалы, которые необходимы для его изготовления.</p> <p><i>Литки, ткань.</i></p>
3	<p>Какие инструменты и оборудование потребуются для пошива фартука?</p> <p><i>Утюг, игла, швейная машина.</i></p>	<p>Какие инструменты и оборудование потребуются для пошива фартука?</p> <p><i>Утюг, игла, швейная машина.</i></p>

4	Предложите способы декорирования изделия. Вышивка с именной орнаментки.	Предложите способы декорирования изделия. Вышивка с именной зо- Зайки фартука.
---	--	--

Карта пооперационного контроля к творческой работе

«Моделирование фартука» максимально 20 баллов

№	Контролируемые параметры	Баллы	Баллы по факту
1	Соответствие эскиза описанию модели	6	5
2	Соответствие выбранных материалов предложенному рисунку и назначению	4	2
3	Перечислено более половины инструментов и оборудования	6	6
4	Необходимые элементы декора в п. 1 и п. 2, не противоречат ли они назначению	4	4

418