

«ЗАДАНИЯ»
ВСЕРОССИЙСКАЯ ОЛИМПИАДА ШКОЛЬНИКОВ
ПО ТЕХНОЛОГИИ 2019–2020 уч. год
ШКОЛЬНЫЙ ЭТАП

Номинация «Культура дома и декоративно-прикладное творчество»
Теоретический тур
6 класс

Максимальное количество набранных баллов – 60
Максимальное время выполнения заданий: – 90 мин.

1. Вставьте в текст пропущенное слово (1 балл).

Почистите свои белоснежные зубы определённой пастой, и наночастицы минералов, состоящие из нескольких молекул на основе гидроксиапатитов кальция, заполняют микротрещины в эмали и сохраняют зубы от кариозных полостей.



Ответ: Наночастицы

2. а) Отгадайте загадку (1 балл).

Рыженькая, как лисица,
Но сидит она в темнице,
Хвост над грядкой держит ловко
Называется .морковка
Что нужно сделать с отгадкой для приготовления винегрета?
Отварить и нарезать

б) Назовите ещё три блюда, для приготовления которых используется этот продукт (1 балл).

Селедка под шубой, корейская морковка, ролл из моркови с сыром

- 0 3. Как называется вид рукоделия, для которого используются материалы и оборудование, изображённые на рисунке (1 балл)?



Ответ: *Шитье, вышивка*

- 0 4. Расположите буквы в правильном порядке, разгадайте зашифрованное слово, получите название старинного русского головного убора замужних женщин (1 балл).

и й о о к п в н

Ответ: *копотица*

- 1 5. а) Вставьте в текст стихотворения Владимира Буряка название ткани (1 балл).

Тонкий *шелк* будто создан из облака,

Он спадает, не падая вниз.




Льётся ткань, и сияет весь облик твой,

Тонкий *шелк* невесом, как каприз...

- 0 б) Какого происхождения волокно, из которого производится эта ткань (1 балл)?

Ответ:

- 1 в) Выберите знаки ухода за одеждой из ткани, произведенной из волокна, о котором говорится в п. а) (1 балл).

А	
Б	
<u>В</u>	


Ответ: Б

1 б. а) О какой профессии идёт речь в стихотворении (1 балл)?

Повар у плиты творит,
 Как на крыльях он парит.
 Всё бурлит вокруг него,
 Кухня – кузница его.
 Каждое его творенье –
 Просто сказка, объеденье,
 Мысли, творчества полёт.
 Тот, кто пробовал, поймёт.

Ответ: Повар

1 б) Выберите оборудование, которое использовалось представителями этой профессии в старину и которое используется сейчас (1 балл).
 В старину



Сейчас

1

2

3

Ответ:

- 0 7. Назовите основные цвета, используемые при изготовлении гжельской керамики (1 балл).

белый, синий

Ответ:

- 1 8. Объясните, для чего нарезанные яблоки сбрызгивают лимонным соком или кладут в подсоленную воду (1 балл).

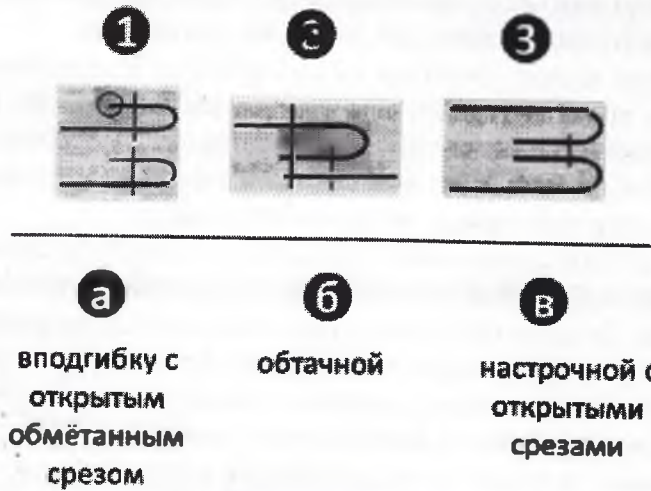
Ответ: чтобы они не темнели и не портились.

- 0 9. Каким швом обрабатывают нижний срез фартука из хлопчатобумажной ткани? Сделайте графическое изображение и нарисуйте схему такого шва (до 2 баллов).

Строчка



0 10. Установи соответствие между условными изображениями швов и их названием. (4 балла)




Ответ запиши в виде комбинации букв и цифр без пробелов, кавычек и каких-либо знаков препинания, цифры должны идти по порядку.

Например, 1а2в3б

Ответ: 1-б 2-а 3-а

5 11. Расшифруй слово. Числа означают место буквы в русском алфавите.



Запиши полученное слово в ответе без кавычек и каких-либо знаков препинания, например, пища(5баллов)

Ответ: припитуря

5 12. Как называется способность ткани в подвешенном состоянии образовывать мягкие округлые складки? Для ответа на этот вопрос сначала составь слова.(5баллов)

- а) емостьдрапиру *драперируемость* б) емостьсмина *внешность* в) дкауса *усадка* г) емостьосыпа *ошибка*

0 13. Существуют 2 способа настила ткани. Какие?(2балла)

- а) в сгиб б) внахлест в) в разворот г) шиворот навыворот

14. Творческое задание (10 баллов)

2 14.1. Составьте меню завтрака, включающее омлет (2 балл).

- 1- Сок (яблочный)
- 2) Омлет
- 3) Бутерброды

1 14.2. Перечислите продукты, которые Вам потребуются для приготовления этого завтрака. (1 балл).


- 1- яблоки (сок)
- 2) яйца, молоко, соль (омлет)
- 3) хлеб, колбаса, майонез, сыр (бутерброды)

2 14.3. Перечислите оборудование, которое Вам потребуется (2 балл).
Сковорода, нож, сковорода, ложка и вилка, дуршлаг

1 14.4. Опишите технологию приготовления омлета (3 балла).

- 1) Взять яйца и разбить их в тарелку
- 2) тщательно взбить, добавляя молоко и соль
- 3) смесь залить в сковородку и дождаться приготовления.

1 14.5. Предложите сервировку стола к этому завтраку (2 балл).



15. Творческое задание.

Максимальное количество баллов за работу – 20

Выберите фартук из предложенных по назначению:

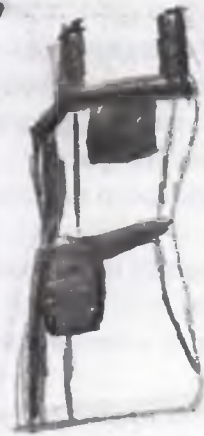
а) для официантов; б) для домашней кухни.

Для выбранного фартука выполните следующие задания. *а*

1. Выполните эскиз модели.
2. Перечислите материалы, которые необходимы для его изготовления.
3. Какие инструменты и оборудование потребуются для пошива фартука?
4. Предложите способы декорирования изделия.

№	а) для официантов	для домашней кухни
1		

	эскиз	Эскиз
2	<p>Перечислите материалы, которые необходимы для его изготовления.</p> <p>Нитки, ткань, утюг</p>	<p>Перечислите материалы, которые необходимы для его изготовления.</p> <p>Нитки, ткань, кружева, утюг</p>
3	<p>Какие инструменты и оборудование потребуются для пошива фартука?</p> <p>Швейная машина, ножницы, игла</p>	<p>Какие инструменты и оборудование потребуются для пошива фартука?</p> <p>Швейная машина, ножницы, иголка</p>



4	Предложите способы декорирования изделия. <i>Именная вышивка</i>	Предложите способы декорирования изделия. <i>Опликацию</i>
---	---	---

Карта пооперационного контроля к творческой работе

«Моделирование фартука» максимально 20 баллов

№	Контролируемые параметры	Баллы	Баллы по факту
1	Соответствие эскиза описанию модели	6	<i>4</i>
2	Соответствие выбранных материалов предложенному рисунку и назначению	4	<i>2</i>
3	Перечислено более половины инструментов и оборудования	6	<i>6</i>
4	Необходимые элементы декора в п. 1 и п. 2, не противоречат ли они назначению	4	<i>2</i>

388

4	Предложите способы декорирования изделия. <i>Именная вышивка</i>	Предложите способы декорирования изделия. <i>Апликацию</i>
---	---	---

Карта операционного контроля к творческой работе

«Моделирование фартука» максимально 20 баллов

№	Контролируемые параметры	Баллы	Баллы по факту
1	Соответствие эскиза описанию модели	6	<i>4</i>
2	Соответствие выбранных материалов предложенному рисунку и назначению	4	<i>2</i>
3	Перечислено более половины инструментов и оборудования	6	<i>6</i>
4	Необходимые элементы декора в п. 1 и п. 2, не противоречат ли они назначению	4	<i>2</i>

398